

Prueba de Historia 1AYB

- Esta prueba se realizará por medio de classroom

1- ¿Qué nos muestra el calendario?

- A) Cuantos días tiene y los días de la semana
- B) Solo los días de la semana
- C) Solo 1 semana



2- ¿Para que nos sirve el calendario?

- A) Nos sirve para anotar cumpleaños, fechas importantes, ver días de la semana.
- B) Nos sirve solo para anotar cumpleaños
- C) Nos sirve solo para ver los días de la semana.

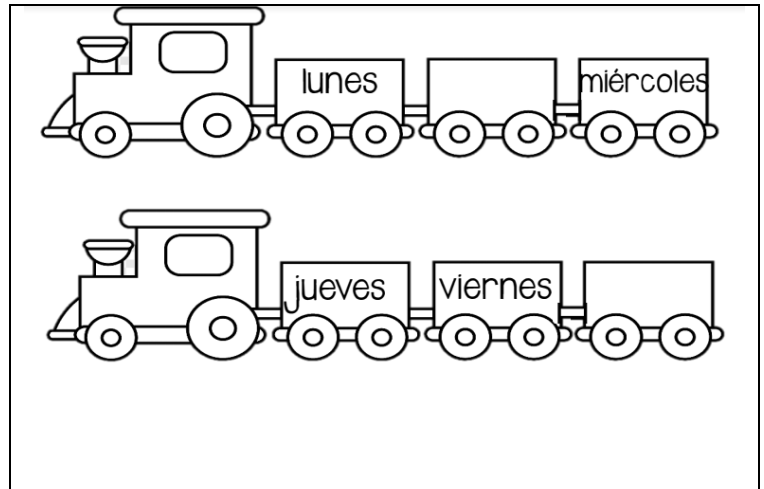
3- ¿Cuántos días tiene la semana?

- A) 6
- B) 5
- C) 7

4- Observa la siguiente imagen y responde:

Al tren le falta algunos días de la semana
¿Cuáles son?

- A) Miércoles y jueves
- B) Martes y sábado
- C) Martes y domingo



5- ¿Cuántos meses tiene el año?

- A) 10
- B) 5
- C) 12

6- Observa la siguiente imagen y responde

Durante el año tenemos distintas estaciones
¿Qué estación vemos en la imagen?

- A) Verano
- B) Invierno
- C) otoño



7- Observa la siguiente imagen y responde

Durante el año tenemos distintas estaciones
¿Qué estación vemos en la imagen?

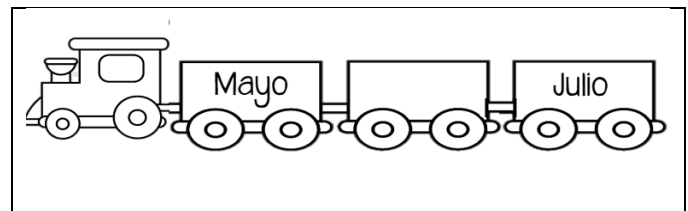
- A) Verano
- B) Primavera
- C) otoño



8- Observa la siguiente imagen y responde:

Al tren le falta 1 mes del año. ¿Cuál es?

- A) Enero
- B) Junio
- C) Agosto



9- Observa la imagen y responde:

¿Qué mes viene antes de marzo y viene después?

- A) Febrero y agosto
- B) Marzo y abril
- C) Febrero y abril

PASADO	ACTUAL	PRÓXIMO
	Marzo	

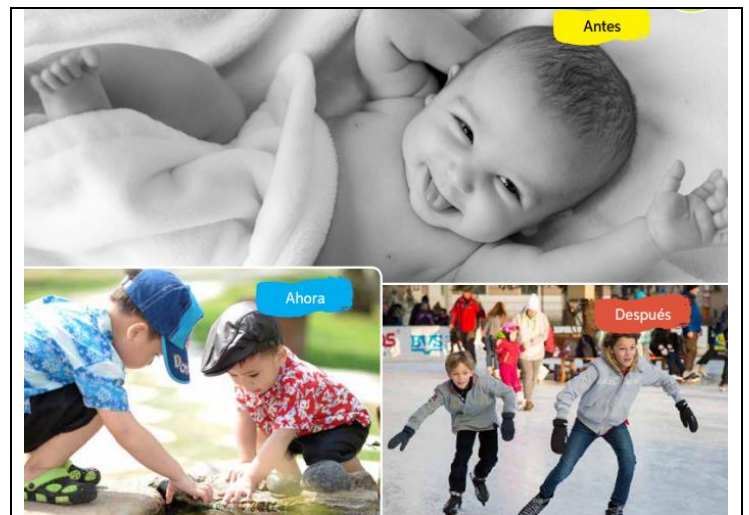
10- Observa la siguiente imagen y responde:
¿Si hoy es martes en el color rosado, que actividad realizo el niño el día de ayer?

- A) Clases de matemáticas
- B) Clases de Artes
- C) Clases de Música




11- Observa la imagen y responde:
¿Cómo era el niño antes?

- A) Grande
- B) Bebe
- C) Adolescente



12- Observa la imagen y responde:
¿Qué actividad estaba realizando el niño después?

- A) Durmiendo
- B) Tomando once
- C) Realizando tareas



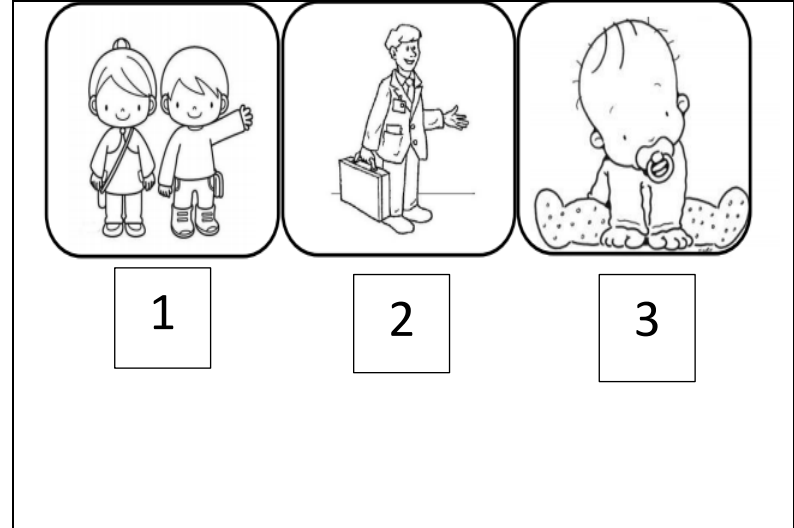
13- El día tiene diferentes momentos ¿Cuáles son?

- A) Dormir
- B) Mañana, tarde y noche
- C) Noche

14- Observa la siguiente imagen y responde:


¿Cuál es el orden correcto según los números, desde que era pequeño hasta que es más grande?

- A) 1- 2- 3-
- B) 3-2-1
- C) 3-1-2



15- Observa la imagen y responde:
¿En qué momentos del día, realizamos estas actividades?

- A) Mañana, tarde, noche
- B) Mañana, noche, tarde
- C) Noche, tarde, mañana.



16- Observa la imagen y responde:
¿En que mes del año pasado salió de vacaciones la niña?

- A) Marzo
- B) Febrero
- C) Agosto



17- ¿Según la imagen cual es el pasatiempo de la niña?

- A) Hacer tareas
- B) Hacer deporte
- C) Jugar a las muñecas



18- Observa el mapa y responde
¿Cuántas personas diferentes hay en el
mapa?

- A) 7 personas
- B) 2 personas
- C) 9 personas
- D)

