



Evaluación de Historia, Geografía y Ciencias Sociales

Nombre: _____ Curso: _____ Fecha: _____

Puntaje total: 20 puntos.

Puntaje obtenido: _____ puntos.

Ítem I. Escucha con atención las instrucciones de un adulto y **marca con una x la respuesta correcta.**(1 PTO. C/U).

1- Un espacio público en nuestra comunidad es: (1 punto)

- A) Las calles.
- B) La casa de la familia Torres.
- C) El Hogar de ancianos “Los Otoñales”

2- ¿Qué es la seguridad vial?

- A) Calles
- B) Son acciones que garantizan el funcionamiento de la circulación del tránsito
- C) Correr por las calles, rápido y veloz.



3- ¿Qué es un peatón?

- A) Los que andan en los autos
- B) Las personas que venden diarios.
- C) Es una persona que tránsito a pie por la vía pública.



4- Observa la imagen y responde:

¿Para qué nos sirven las normas de buena convivencia?

- A) Para pelear
- B) Para botar basura
- C) Respetarnos, ser amables y convivir en un ambiente de respeto.



5- Observa la siguiente imagen y responde: ¿Qué profesión realiza la persona de la imagen?

- A) Doctora
- B) Dentista
- C) peluquera




6- Observa la siguiente imagen y responde: Se me perdió la cartera, ¿a quién debo acudir para pedir ayuda?

- A) Bomberos
- B) Doctor
- C) Carabineros



7- Observa la imagen y responde: ¿Pará que nos sirven los medios de transporte?

- A) Para trasladarnos
- B) Para verlos
- C) Para comunicarnos



8- Escucha y responde: ¿Camila debe viajar hacia España a ver a su familia, en que medio de transporte debe ir?

- A) En bus
- B) En Auto
- C) En avión

9- Escucha y responde: ¿Arturo debe viajar desde Colina a Santiago en que medio de transporte debe hacerlo?

- A) En avión
- B) En barco
- C) En bus

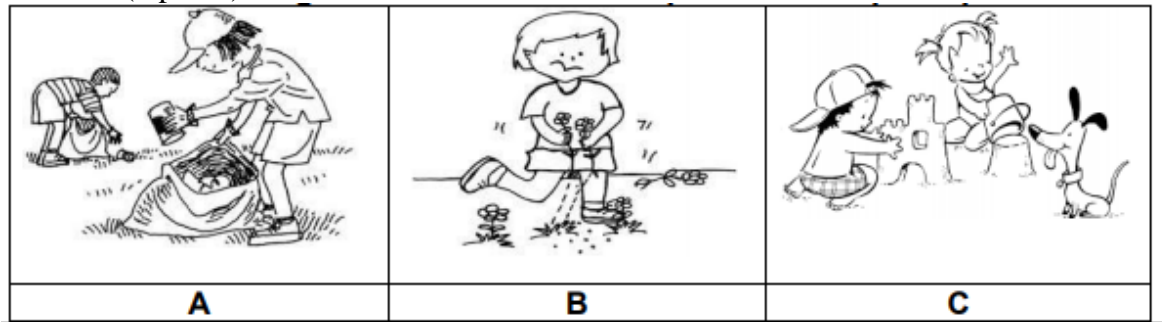
10- Escucha y responde: ¿Diego quiere recorrer el río, pero no sabe en qué medio de transporte debe hacerlo? Marca la respuesta correcta de cómo debe hacerlo

- A) En avión
- B) En auto
- C) En bote

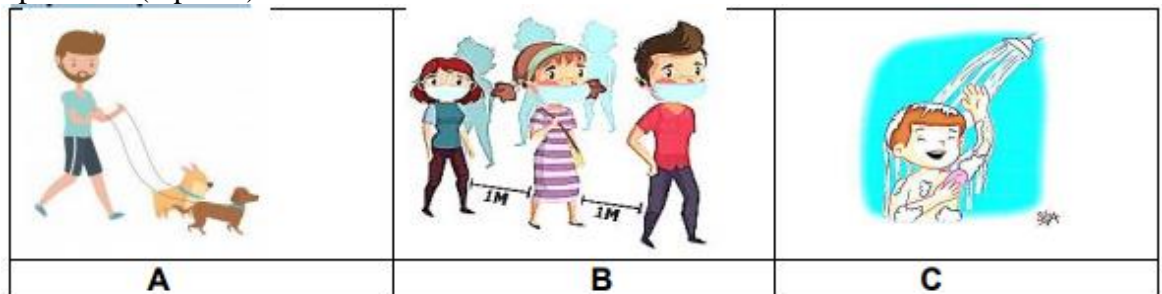
11- A Emilia le dieron una tarea en el colegio, debe clasificar los medios de transportes, pero no recuerda cuales son los nombres. ¿Tú le podrías ayudar?

- A) aéreo, terrestre, caminando
- B) Terrestre, acuático y aéreo
- C) acuático, globos y camiones.

12- Observa la imagen e identifica la acción que daña el espacio público. Encierra en un círculo. (1 punto)



13- ¿Cuál de estas imágenes muestra una actividad que debes realizar en un espacio privado? (1 punto)



14- Observa la imagen ¿Cuál es la consecuencia de dañar un espacio público? (3 puntos)



15- Dibuja y pinta 2 situaciones que ayuden a la comunidad. (4 puntos)

--	--