




Colegio Inmaculada Concepción  
Science  
1 st grade  
Teacher Michael Cuica  
Mark



Aprendizajes esperados:





- Identificar características de los seres vivos y los no vivos

Name \_\_\_\_\_ 1<sup>st</sup> grade: \_\_\_\_\_ Date: \_\_\_\_\_  
total score 18 points scored obtained: \_\_\_\_\_

**Written test / Prueba escrita**

**The world around me  
El mundo a nuestro alrededor**

1. Draw an X in the boxes if the following images show a living thing or a non-living element. (Dibuja una X en el cuadro si la imagen muestra un ser vivo o un ser no vivo) 4pts

	Living thing	Non-living element
		
		
		
		

2. Are the following sentences true or false? Write T or F accordingly.  
(¿Son las siguientes oraciones verdaderas o falsas? escribe T o F como corresponda) 4 points

- a) \_\_\_\_\_ A book is a non-living thing. (Un libro es un ser no vivo)
- b) \_\_\_\_\_ Living things don't grow. (Los seres vivos no crecen)
- c) \_\_\_\_\_ Plants and animals need water to survive. (Las plantas y los animales necesitan agua para sobrevivir)
- d) \_\_\_\_\_ Non-living things reproduce. (Los seres no vivos se reproducen)

3. Why are foxes living things? Color your answers.  
(¿Porqué los zorros son seres vivos? colorea tus respuestas) 6 points




The image shows a central photograph of a red fox. Surrounding the fox are eight rectangular boxes, each containing a characteristic of living things in English and Spanish. The boxes are arranged as follows:

- Top-left: They drink water / Beben agua
- Top-right: They grow / Crecen
- Middle-right: They need beds / Necesitan camas
- Middle-left: They need toys / Necesitan juguetes
- Bottom-right: They reproduce / Se reproducen
- Bottom-left: They respond to stimuli / Responden a estímulos
- Bottom-center: They breathe / Respiran
- Bottom-right (lower): They eat / Se alimentan

4. Which image shows non-living elements only?

¿Cuál de estas imágenes muestran elementos de los seres no vivos? 2 points



5. What characteristic of living things does this image show?

¿Qué características de los seres vivos aparece en esta imagen? 2 points

**Living things grow.  
Seres vivos crecen**

**Living things respond to stimuli.  
Seres vivos responden a estímulos**



God bless you!!!