



NOMBRE: _____

GUÍA Nº14 DE EDUCACIÓN MATEMÁTICA




Familia del 300

1.- Observa la representación del 300 y colorea.

Familia del:



300 Unidades: 30 decenas: 3 centenas



2.- Completa la secuencia numérica.

+	1	2	3	4	5	6	7	8	9
300									
310									
320									
330									
340									
350									
360									
370									
380									
390									

3.- Escribe el antecesor y sucesor de los siguientes números.

Antecesor y sucesor

___ 300 ___	___ 301 ___	___ 302 ___
___ 315 ___	___ 323 ___	___ 339 ___
___ 347 ___	___ 351 ___	___ 362 ___
___ 370 ___	___ 386 ___	___ 395 ___
___ 303 ___	___ 314 ___	___ 324 ___
___ 350 ___	___ 367 ___	___ 376 ___
___ 384 ___	___ 391 ___	___ 398 ___