

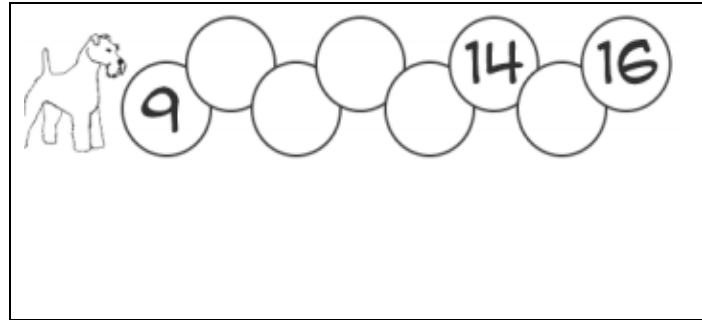
Evaluación de Matemáticas segundos básicos

- Esta evaluación se hará por medio de classroom

1- Observa la imagen y responde:

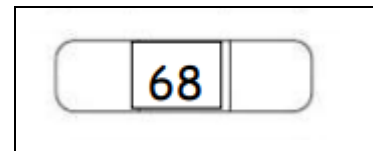
¿Qué números le faltan para completar la secuencia numérica?

- A) 10-11-12-13-14
- B) 10-11-12-13-15
- C) 11-12-13-14-15



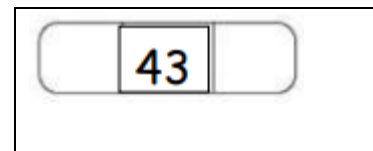
2- ¿Cuál es el antecesor y sucesor del Número de la imagen?

- A) 48 y 49
- B) 67 y 69
- C) 50 y 51




3- ¿Cuál es el antecesor y sucesor del Número de la imagen?

- A) 48 y 49
- B) 42 y 44
- C) 30 y 31



4- ¿Cuál es el antecesor y sucesor del Número de la imagen?

- A) 94 y 96
- B) 80 y 81
- C) 90 y 91

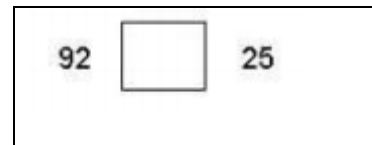


5- Observa la imagen y responde:  
¿Qué números faltan para completar  
la secuencia numérica?




- A) 94- 96-98-99
- B) 94- 95- 98 – 99
- C) 94 – 96- 98 -99

6- Comparemos los números  $>$ ,  $<$  o  $=$   
Observa la siguiente y compara los números  
Busca la respuesta correcta




- A)  $>$
- B)  $<$
- C)  $=$

7- Comparemos los números  $>$ ,  $<$  o  $=$   
Observa la siguiente y compara los números  
Busca la respuesta correcta



- A)  $>$
- B)  $<$
- C)  $=$

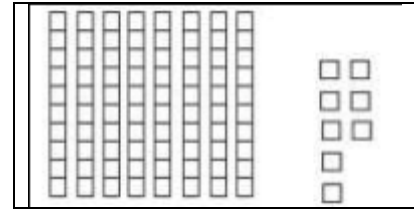
8- Comparemos los números  $>$ ,  $<$  o  $=$   
Observa la siguiente y compara los números  
Busca la respuesta correcta



- A)  $>$
- B)  $<$
- C)  $=$

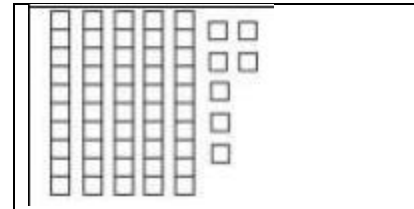
9- Observa la imagen y responde:  
¿Cuántas decenas y unidades corresponden a la imagen?

- A) 88
- B) 80
- C) 90



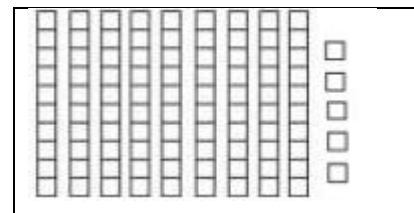
10- Observa la imagen y responde:  
¿Cuántas decenas y unidades corresponden a la imagen?

- A) 58
- B) 57
- C) 60



11- Observa la imagen y responde:  
¿Cuántas decenas y unidades corresponden a la imagen?

- A) 90
- B) 95
- C) 100



12- Realiza las siguientes adiciones ,  
Encuentra la respuesta correcta.

- A) 28
- B) 29
- C) 20

$$14 + 15 =$$

13- Realiza las siguientes adiciones,  
Encuentra la respuesta correcta.

- A) 28
- B) 38
- C) 48

$$20 + 18 =$$

14- Realiza las siguientes adiciones,  
Encuentra la respuesta correcta.

- A) 60
- B) 70
- C) 80

$$30+40=$$

15- Realiza las siguientes restas,  
Encuentra la respuesta correcta.

- A) 30
- B) 20
- C) 40

$$40-20=$$

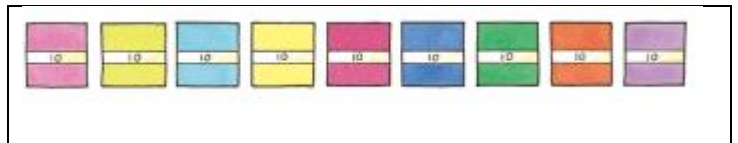
16- Realiza las siguientes restas,  
Encuentra la respuesta correcta.

- A) 90
- B) 60
- C) 30

$$90-30=$$

17- Tenía 90 hojas de papel lustre y usé 40  
hojas  
¿Cuántas hojas me quedan?  
Encuentra la operación y el resultado.

- A)  $90+40= 130$  hojas
- B)  $90-30= 60$  hojas
- C)  $90-40= 50$  hojas



18- Ester tiene 23 lápices, su hermana mayor  
le dio 6 más.

¿Cuántos lápices tiene Ester?

Encuentra la operación y el resultado

- A)  $23-6 =17$  lápices
- B)  $23+6= 29$  lápices
- C)  $23+5= 28$  lápices

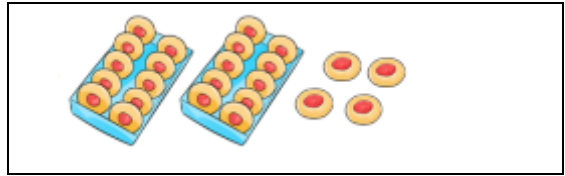


19- Había 24 pasteles y Manuel se comió 4

¿Cuántos quedan?

Encuentra la operación y resultado.

- A)  $24 + 4 = 28$  pasteles
- B)  $24 - 4 = 20$  pasteles
- C)  $24 + 5 = 29$  pasteles



20- Carola recortó 20 estrellas y Marta 30 mas

¿Cuántas estrellas tengo en total?

Encuentra la operación y el resultado.

- A)  $20 - 30 = 10$  estrellas
- B)  $20 + 40 = 60$  estrellas
- C)  $20 + 30 = 50$  estrellas.



21- Quiero comprar un dulce por \$30 y 1 chicle por \$40

¿Cuál sería el costo total?

Encuentra la operación y el resultado.

- A)  $30 - 40 = 10$  pesos
- B)  $30 + 30 = 60$  pesos
- C)  $30 + 40 = 70$  pesos

