



NOMBRE: _____

GUÍA Nº11 DE EDUCACIÓN MATEMÁTICA
Números hasta 100

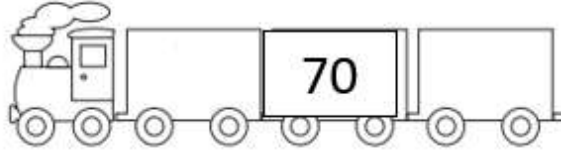











1.- Cuenta del 1 al 100 de forma ascendente y descendente.

1	2	3	4	5	6	7	8	9	10
11	12	13	14	15	16	17	18	19	20
21	22	23	24	25	26	27	28	29	30
31	32	33	34	35	36	37	38	39	40
41	42	43	44	45	46	47	48	49	50
51	52	53	54	55	56	57	58	59	60
61	62	63	64	65	66	67	68	69	70
71	72	73	74	75	76	77	78	79	80
81	82	83	84	85	86	87	88	89	90
91	92	93	94	95	96	97	98	99	100

2.- Completa las secuencias. Puedes utilizar la tabla anterior.

♥	2	♥	♥	♥	6	♥	♥	♥	10
♥	♥	♥	14	♥	♥	17	♥	19	♥
21	♥	♥	♥	♥	26	♥	♥	♥	♥
♥	♥	33	♥	♥	♥	♥	38	♥	40
♥	♥	♥	♥	45	♥	♥	♥	49	♥
♥	52	♥	♥	♥	♥	57	♥	♥	♥
♥	♥	♥	64	♥	♥	♥	♥	♥	70
♥	♥	♥	♥	♥	76	♥	♥	♥	♥
81	♥	83	♥	♥	♥	♥	88	♥	♥
♥	♥	♥	♥	95	♥	97	♥	♥	100

3.- Escribe el antecesor y sucesor de cada número.



4.- Compara los números usando $>$, $<$ o $=$.

1) 92 25

9) 36 62

2) 23 37

10) 59 21

3) 98 66

11) 53 46

4) 13 83

12) 28 91

5) 83 68

13) 79 82

6) 61 68

14) 65 64

7) 82 10

15) 59 68

8) 58 97

16) 48 17

5.- Escribe el número que representan las barras y los cubos.

	<input type="text" value="DU"/>		<input type="text" value="DU"/>
	<input type="text" value="DU"/>		<input type="text" value="DU"/>
	<input type="text" value="DU"/>		<input type="text" value="DU"/>
	<input type="text" value="DU"/>		<input type="text" value="DU"/>
	<input type="text" value="DU"/>		<input type="text" value="DU"/>

6.- Une los puntos de la imagen del 1 hasta el 100, luego pinta el dibujo que se forma.

