



NOMBRE: _____

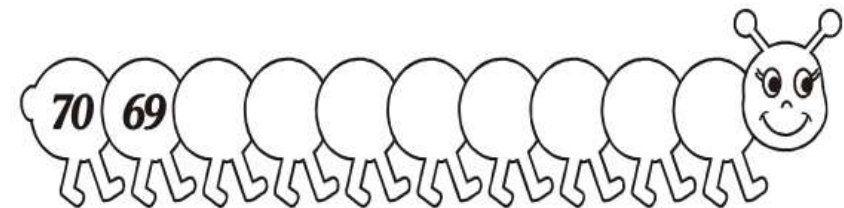
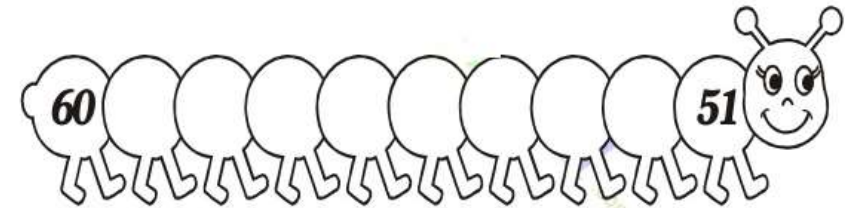
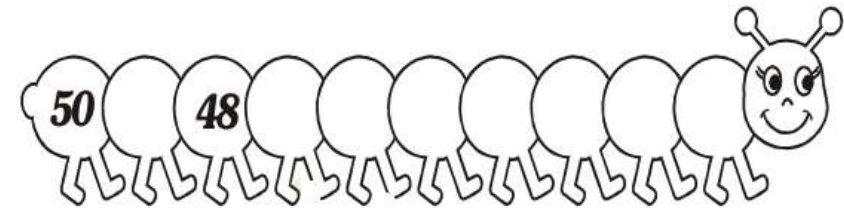
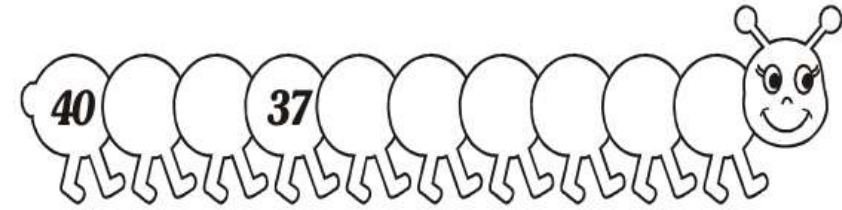
GUÍA N°9 DE EDUCACIÓN MATEMÁTICA

Números hasta 70

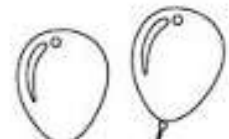





1.- Cuenta del 1 al 70 de forma ascendente y descendente.

1	2	3	4	5	6	7	8	9	10
11	12	13	14	15	16	17	18	19	20
21	22	23	24	25	26	27	28	29	30
31	32	33	34	35	36	37	38	39	40
41	42	43	44	45	46	47	48	49	50
51	52	53	54	55	56	57	58	59	60
61	62	63	64	65	66	67	68	69	70

2.- Completa las secuencias descendentes de los números hasta el 70. Puedes utilizar la tabla anterior.









3.- Escribe el antecesor y sucesor de cada número.

<input type="text" value="50"/>		<input type="text" value="49"/>
<input type="text" value="68"/>		<input type="text" value="69"/>
<input type="text" value="55"/>		<input type="text" value="48"/>
<input type="text" value="70"/>		<input type="text" value="58"/>
<input type="text" value="43"/>		<input type="text" value="63"/>
<input type="text" value="65"/>		<input type="text" value="51"/>
<input type="text" value="57"/>		<input type="text" value="52"/>


4.- Compara los números usando $>$, $<$ o $=$.


<input type="text" value="49"/> <input type="text"/> <input type="text" value="69"/>	<input type="text" value="55"/> <input type="text"/> <input type="text" value="55"/>
<input type="text" value="23"/> <input type="text"/> <input type="text" value="69"/>	<input type="text" value="50"/> <input type="text"/> <input type="text" value="60"/>
<input type="text" value="67"/> <input type="text"/> <input type="text" value="35"/>	<input type="text" value="63"/> <input type="text"/> <input type="text" value="64"/>
<input type="text" value="69"/> <input type="text"/> <input type="text" value="70"/>	<input type="text" value="49"/> <input type="text"/> <input type="text" value="68"/>
<input type="text" value="35"/> <input type="text"/> <input type="text" value="69"/>	<input type="text" value="48"/> <input type="text"/> <input type="text" value="60"/>
<input type="text" value="64"/> <input type="text"/> <input type="text" value="48"/>	<input type="text" value="70"/> <input type="text"/> <input type="text" value="70"/>

5.- Escribe el número que representan las barras y los cubos. Sigue el ejemplo.

 <input type="text"/>	 <input type="text"/>	 <input type="text"/>
<i>Material Didáctico Reglas</i>		
 <input type="text"/>	 <input type="text"/>	 <input type="text"/>

6.- Colorea las fichas para representar la cantidad numérica indicada

 Rojas valen 10

 Azules valen 1

