



Colegio Inmaculada Concepción
Profesora Gianina Briceño / Gloria Gaete

EVALUACIÓN EDUCACIÓN MATEMÁTICA N°4 II SEMESTRE
SEGUNDO BÁSICO A Y B

Nombre: _____ Curso: 2° _____

INSTRUCCIONES:

- Ubicarse en un lugar con luz y sin distracciones
- Esta evaluación puede se realizar en el cuaderno o imprimir, debe enviar fotografías del resultado.
- Recuerda que el adulto puede orientar tú trabajo pero debes intentar hacerlo tú.

ENVIAR A LOS SIGUIENTES EMAILS, RECORDAR COLOCAR EN ASUNTO EL NOMBRE, APELLIDO Y CURSO.

2ºA = giany.loreto@gmail.com

2ºB = glory.gaete@gmail.com

PLAZO DE ENTREGA 29 DE NOV.

- 1. Señala el ANTECESOR Y SUCESOR de los siguientes números:**
(1 PTO POR EJERCICIO)

ANTECESOR – 1	NÚMERO	SUCESOR + 1
	99	
	150	
	201	
	305	
	400	

- 2. Señala con símbolos MAYOR QUE >, MENOR QUE < O IGUAL =**
(1 PTO C/U)

200 _____ 389

189 _____ 389

99 _____ 99

356 _____ 426

- 3. Completa en los espacios la siguiente secuencia numérica (3 PTOS C/ EJERCICIO)**

Secuencia +2 (debes sumar la misma cantidad señalada)

100 - 102- _____ - _____ - 108- 110 - _____ - 114.

Secuencia + 5 (debes sumar la misma cantidad señalada)

200- 205- _____ -215- _____ - _____ - 230

Secuencia + 1 (debes sumar la misma cantidad señalada)

394- 395- _____ - 397 _____ - _____ 400

4. Resuelve restas y sumas simples (1 pto c/U)

$$\begin{array}{r} 63 \\ +26 \\ \hline \end{array}$$

$$\begin{array}{r} 44 \\ +54 \\ \hline \end{array}$$

$$\begin{array}{r} 76 \\ +21 \\ \hline \end{array}$$

$$\begin{array}{r} 55 \\ -35 \\ \hline \end{array}$$

$$\begin{array}{r} 63 \\ -33 \\ \hline \end{array}$$

$$\begin{array}{r} 22 \\ -6 \\ \hline \end{array}$$

5.Resuelve el siguiente problema matemático: (3 PTOS c/u)

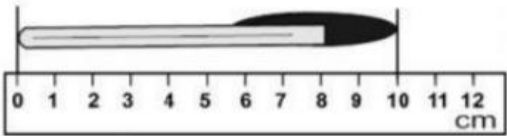
Para hacer una macedonia de frutas mi Ana Belén y yo hemos cortado 43 trozos de manzana, 28 trozos de pera y 14 trozos de naranja. ¿Cuántos trozos de fruta hemos cortado en total?

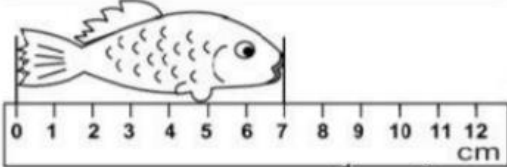
OPERACIONES	RESPUESTA
	<p>PREGUNTA:</p> <p>RESPUESTA:</p>

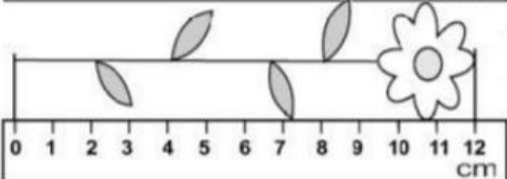
5.a Crea un problema matemático.

OPERACIONES	RESPUESTA
	PREGUNTA:
	RESPUESTA:

6- Escribe las medidas de los siguientes objetos: (1 PTO C/u)

a)  _____ centímetros.

b)  _____ centímetros.

c)  _____ centímetros.

8. Reflexiona: (4 PTOS C/U) RECUERDA USAR MAYUSCULA, LETRA LEGIBLE Y PUNTO AL FINAL.

A. Cómo medirías una puerta sin regla o huincha de medir?

B. ¿Cómo nos ayuda las sumas y restas (operaciones básicas) en nuestra vida o todos los días?

C. ¿Dónde podemos encontrar números cercano a nosotros?

D. Señala 4 pasos para resolver una suma y resta:

Suma	Resta
1.	1.
2.	2.
3.	3.
4.	4.

