



Guía de trabajo N°5 1° A - B

Nombre: _____

Desafíos:

- 1.- Componer y descomponer números del 0 al 10.
- 2.- Identificar el orden de elementos utilizando números ordinales.

Estimados Padres y Apoderados:

Junto con saludar y esperando se encuentren bien, les entrego la siguiente información que será importante para cumplir con el proceso educativo de nuestros estudiantes.

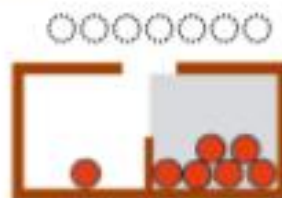
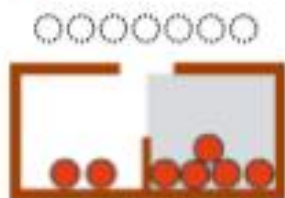
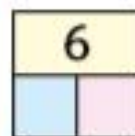
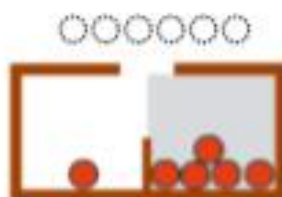
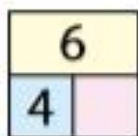
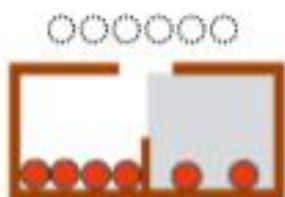
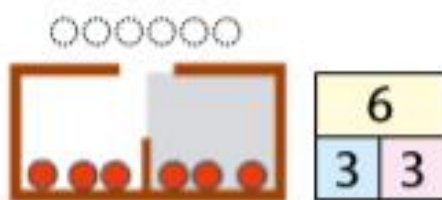
Les solicito leer cuidadosamente y considerar los siguientes puntos:

- Con el fin de simplificar el trabajo diario de nuestros estudiantes y fomentar el aprendizaje, se dará inicio al trabajo a través de los textos escolares entregados por el Ministerio de Educación.
- Todas las semanas se enviarán actividades correspondientes al del libro del Ministerio de Educación, indicando número de página, objetivo de la clase y una pequeña instrucción de lo que deben hacer.
- Para aquellos apoderados que no cuenten con los textos escolares, se enviará también la imagen de la página a trabajar para que puedan imprimir o transcribir la actividad en el cuaderno de la asignatura.
- Solo se debe trabajar en la página indicada y no realizar actividades extra de los textos escolares.
- Se recomienda realizar las actividades en un lugar
- tranquilo, limpio y sin distracciones, que permita y favorezca el buen desarrollo de las actividades.
- Les ruego dedicar tiempo para supervisar el trabajo de sus hijos y la correcta realización de las actividades, con el fin de que se cumpla el objetivo de aprendizaje. Les saluda cordialmente

Profesoras Primeros Básicos.

1.- A continuación, se detallan las páginas que su hijo (a) debe desarrollar en el tomo 1 del libro de matemática. (El libro también se encuentra disponible www.aprendiendoenlinea.cl)

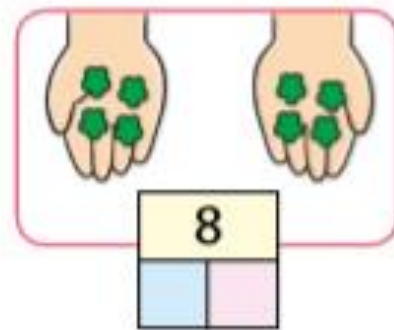
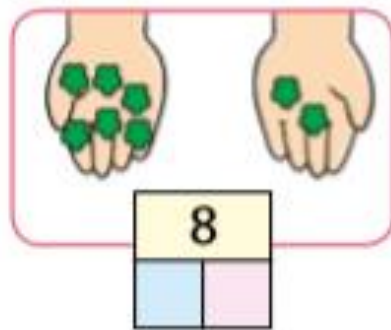
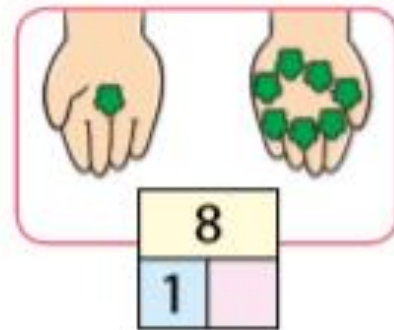
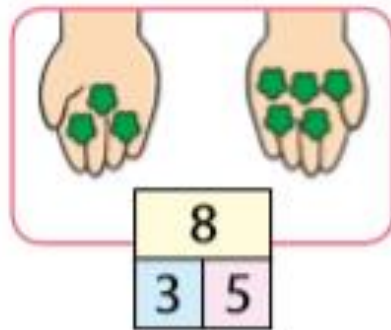
Páginas 28 - 29 - 30 - 31.



8



Tengo 8




9



Formo 9



10



9

y

1

10	
9	1



8

y

10	
8	



y

10	



y

10	



y

10	



y

10	



y

10	



y

10	



y

10	

¿Cuáles son similares?

1 y 9

9 y 1




Juguemos

Hagamos nuestras cartas del 1 al 10



Paula



10 es 4 y 6



José



Siempre 10

